



2 年级：KBAT 数学题

by 妖妖奥数

- 1) 小汤有 25 个苹果，小丽有 17 个苹果。
他们共有多少个苹果？

- 2) 小汤有 28 个苹果，小丽有 7 个苹果。
他们共有多少个苹果？

- 3) 小汤有 28 个苹果，小丽有 7 个苹果。
他们的苹果数量相差多少个？

- 4) 小平有 24 张贴纸，小江的贴纸比他多 9 张，
他们总有很多张贴纸？

- 5) 小平有 32 张贴纸，小江的贴纸比他少 8 张，
他们总有很多张贴纸？

- 6) 王老板有一些鸡蛋。
他早上卖了 24 个鸡蛋，下午卖了 10 个鸡蛋，还剩 25 个鸡蛋。
王老板原来有多少个鸡蛋？

- 7) 王老板有一些鸡蛋，早上卖了 22 个鸡蛋，下午买进 12 个。
如果王老板现在还有 25 个鸡蛋，
那他原来有多少个鸡蛋？



- 8) A 班有 12 名男学生和 16 名女学生，B 班有 22 名学生。
这两个班有多少名学生？
- 9) A 班有 16 名男学生，比女生少 5 名。
A 班有多少名学生？
- 10) 卡卡有一些回形针。他使用了 15 个，给了姐姐 6 个回形针，
最后他还剩下 19 个回形针。请问他原来有几个回形针？
- 11) 卡卡有一些回形针。他使用了 15 个，姐姐给了他 6 个，
最后他还剩下 28 个回形针。请问他原来有几个回形针？
- 12) 小王有 28 粒气球，小明的气球比他多 33 粒。
两人总共有多少粒气球？
- 13) 小王有 28 粒气球，小明的气球比他少 12 粒。
两人总共有多少粒气球？
- 14) 王叔叔有一些苹果，他卖了 15 个红苹果和 12 个青苹果，还剩 15 个苹果。
王叔叔原来有几个苹果？
- 15) 商店有一些苹果，老板买进 28 个苹果，客人买走 19 个苹果。
如果商店还有 58 个苹果，那商店一开始有几个苹果？
- 16) 小轩买了 22 粒黄气球和一些绿气球，绿气球比黄气球多 12 粒。
小恩买的气球数量比小轩多 15 粒。请问小恩买了多少粒气球？




- 17) 小轩买了 28 粒黄气球和一些绿气球，绿气球比黄气球少 8 粒。
小恩买的气球数量比小轩多 12 粒。小恩买了多少粒气球？
- 18) 体育室的篮子里有 18 个篮球，老师把 15 个排球和 13 个足球放入篮子。
篮子里总共有几个球？
- 19) 体育室的篮子里有 18 个篮球，排球的个数比篮球多 6 个。
学生借了 12 个排球后，体育室的篮子里还有几个球？
- 20) 花店卖出 22 朵百合花，28 朵康乃馨和 23 朵玫瑰花。
花店一共卖了几朵花？
- 21) 花店卖出 25 朵百合花，35 朵康乃馨和 15 朵玫瑰花。
如果花店原来共有 120 朵花，那还剩下多少朵花？
- 22) 篮子原有 19 个苹果，妈妈再把 12 个红苹果和 16 个青苹果放入篮子里。
现在篮子一共有几个苹果？
- 23) 篮子原有 22 个红苹果和 19 个青苹果放入篮子里。
妈妈把 12 个苹果送给邻居后，篮子里还剩下多少个苹果？
- 24) 小杰卖了 24 个蛋糕，比小丽少卖 18 个。
他们共卖了多少个蛋糕？
- 25) 卡卡买了 28 个蛋糕，比乐乐多买 9 个。
两人共买了多少个蛋糕？




- 26) 一件衣服的价钱是 **RM32**，一条裤子比一衣服贵 **RM12**。
一件衣服和一件裤子共多少钱？
- 27) 一件衣服的价钱是 **RM30**，一条裤子比一衣服贵 **RM15**。
两件裤子共多少钱？
- 28) 一盒饼干比一盒巧克力便宜 **RM18**。
如果一盒巧克力的价格是 **RM25**，
那一盒饼干和一盒巧克力共多少钱？
- 29) 蛋糕店周一卖出 **19** 个蛋糕，比周二少 **8** 个。
蛋糕店两天共卖出多少个蛋糕？
- 30) 一本杂志比一本故事书贵 **RM5**。
如果一本杂志的售价是 **RM9**，那 **3** 本同样的故事书需要多少钱？
- 31) 一本杂志比一本故事书贵 **RM3**。
如果一本杂志的售价是 **RM8**，那 **2** 本同样的故事书需要多少钱？
- 32) 小杰有 **25** 粒气球，小琳有 **48** 粒气球。
小杰还要买多少粒气球，才能使气球数量和小琳同样多？
- 33) 蛋糕店有 **28** 个蓝莓蛋糕和 **40** 个草莓蛋糕。
工人做多少个蓝莓蛋糕后，那两种蛋糕的数量就相等？
- 34) 两个数字的差是 **12**。
如果较大的数字是 **19**，那较小的数字是多少？



- 35) 两个数字的差是 18。
如果较小的数字是 15，那较大的数字是多少？
- 36) 两个数字的差是 21。
如果较大的数字是 49，那较小的数字是多少？
- 37) 两个数字的差是 19。
如果较小的数字是 12，那较大的数字是多少？
- 38) 小丽有 38 枚邮票。
她送给妹妹 15 枚，哥哥送她 28 枚，她最后还有多少枚邮票？
- 39) 小丽有一些邮票，送给弟弟 12 枚，姐姐送她 19 枚。
如果她现在有 25 枚邮票，那小丽原来有多少枚邮票？
- 40) 39 比一个数字大 15，这个数字是多少？
- 41) 28 比一个数字大 9，这个数字是多少？
- 42) 19 比一个数字大 8，这两个数字的和是多少？
- 43) 22 比一个数字大 7，这两个数字的和是多少？
- 44) 礼堂里有 66 个客人，其中有 20 人是儿童，其余都是大人。
礼堂里的大人比儿童多几人？



- 45) 蛋糕店卖出 **45** 个蛋糕，其中 **18** 个是草莓蛋糕，其余都是巧克力蛋糕。
两种蛋糕的销量相差多少个？
- 46) **B** 班有 **38** 个学生，其中有 **15** 人是女学生。
请问 **B** 班的男学生比女学生多几人？
- 47) 小明把两个数字相加得到 **35**。
如果其中一个数字是 **11**，那另一个数字是多少？
- 48) 小明把两个数字相加得到 **28**。
如果其中一个数字是 **9**，那另一个数字是多少？
- 49) 一个手表和一个时钟的售价为 **RM68**。
如果手表的价格是 **RM39**，那手表比时钟贵多少钱？
- 50) 草地上共有 **38** 只白羊和灰羊。
如果草地上有 **21** 只白羊，那白羊和灰羊相差多少只？
- 51) 饮料店共卖出 **48** 杯奶茶和咖啡。
如果卖出 **29** 杯奶茶，那这两种饮料的销量相差多少杯？
- 52) 小丽有 **RM40**，小美的钱比小丽少 **RM16**。
两人共有多少钱？
- 53) 小丽有 **RM45**，小美的钱比小丽多 **RM8**。
两人共有多少钱？



- 54) 妈妈买了一件 **RM28** 的衣服，她给了收银员 **2** 张 **RM20** 的纸币。
请问她需要拿回多少钱？
- 55) 小黄有 **RM85**，他买衣服花了 **RM27**，并把其余的钱的存起来。
他存的钱比花的钱多多少钱？
- 56) 花园里有 **8** 个学生在种花，每个学生各种了 **3** 盆大红花和 **1** 盆玫瑰花。
请问他们共种了多少盆花？
- 57) 小平每天喝 **3** 瓶牛奶，
他一个星期喝多少瓶牛奶？
- 58) 小平每天喝 **2** 瓶牛奶，
他 **2** 个星期喝多少瓶牛奶？
- 59) 小丽在相册的每页都贴上 **4** 张照片。
这本相片册共有 **5** 页，小丽共有多少张照片？
- 60) 一束花有 **8** 朵，小美买了 **4** 束花。
她一共买了多少朵花？
- 61) 阿姨烤了 **18** 个蛋糕。她将蛋糕平均放入 **3** 个盒子中。
每个盒子里有几个蛋糕？
- 62) 小花每天读 **4** 本书。
她要花多少天才能读完一本 **32** 页的书？



- 63) 妈妈买了一打的鸡蛋，老板把鸡蛋平均分成 4 个袋子。
每个袋子里有几个鸡蛋？
- 64) 一盒番茄的价格是 RM3。
老奶奶有 RM15，那她可以买多少盒番茄？
- 65) 陈阿姨买了 30 个糖果。她给了小美 12 个糖果，给了小明 15 个糖果。
她剩下多少个糖果？
- 66) 客厅的花瓶里有 19 朵花。其中 8 朵是红色，5 朵是黄色，其余则是橙色。
花瓶里有多少朵橙色的花？
- 67) 王老师做了 42 块饼干，有 13 块蓝莓饼干，一些巧克力饼干，和 15 块核桃饼干。
老师做了多少块巧克力饼干？
- 68) 妈妈买了 45 个苹果，把 18 个送给邻居，也把一些送给阿姨。
如果妈妈还剩下 9 个苹果，那她把多少个苹果送给阿姨？
- 69) 小美在星期一做了 12 个橙子蛋糕和 28 个柠檬蛋糕。
她在星期二又做了 11 个柠檬蛋糕。柠檬蛋糕比橙子蛋糕多几个？
- 70) 水果店有 38 个红苹果和 27 个青苹果，卖出 15 个青苹果后，
红苹果和青苹果相差多少个？
- 71) 礼堂里有 45 个男生和 38 个女生，3 个男生和 5 个女生离开后，
剩下的男生和女生相差多少人？



- 72) 课室里有 28 个男生和 23 个女生，3 个男生离开后，有 9 个女生进入课室。
现在课室里男生的数量和女生相差多少人？
- 73) A 班有 19 个男生和 11 个女生。B 班有 27 个男生和 18 个女生。
两班的女生总数比男生总数少几个？
- 74) 盒子里有 38 个青苹果和 15 个红苹果。
A 班的同学吃了一些苹果后，还剩 18 个苹果。A 班的同学吃了多少个苹果？
- 75) 农场有 45 只母鸡和 28 只公鸡，卖出一些后，还剩下 35 只鸡。
农场卖出多少只鸡？
- 76) 池塘有 38 只草鱼和 24 只鲤鱼，渔夫抓走 25 只鱼后，
还剩下多少只鱼？
- 77) 礼堂里有 36 个男生，女生比男生少 18 人。
8 个学生离开后，礼堂还剩下多少个学生？
- 78) 小康有一些邮票，爸爸给了他 22 枚邮票后，他又从姐姐手里拿到 16 枚邮票。
如果他最后有 52 枚邮票，那他原来有多少枚邮票？
- 79) 哥哥有一些储蓄，爸爸给了他 RM28，他花了 RM16 买了一本书。
如果他现在有 RM52，那他一开始有多少钱？
- 80) 当把一个数字加 16 后，其结果是比 33 大 8。
这个数字是多少？



- 81) 当把一个数字减 13 后，其结果是比 34 小 9。
这个数字是多少？
- 82) 当把一个数字加 19 后，其结果是比 43 小 12。
这个数字是多少？
- 83) 当把一个数字减 13 后，其结果是比 38 大 18。
这个数字是多少？
- 84) 陈老板有 48 个鸡蛋，他丢掉 12 个烂鸡蛋，卖出 13 个鸡蛋。
请问剩下的鸡蛋数量比卖出的鸡蛋多几个？
- 85) 小美买了一本故事书共 56 页。他在星期一读 16 页，在星期二读 9 页。
她还剩下多少页没有读？
- 86) A 班有 18 个男学生和 23 个女学生。
老师买了 35 支铅笔，送给每个学生 1 支铅笔。
请问有多少个学生没有得到铅笔？
- 87) 小美在一场比赛中得到 51 分。
小丽的得分比小美少 8 分。她们一共得到多少分？
- 88) 卡卡在数学考试中得到 65，比乐乐多 18 分。豆豆比乐乐多 5 分。
请问豆豆的数学考试得到多少分？
- 89) 妈妈买了 39 个苹果，小明吃了 13 个苹果，姐姐吃了 9 个苹果，
还剩多少个苹果？




- 90) 爸爸买了 40 个山竹，哥哥和弟弟各吃了 6 个，
还剩下多少个山竹？
- 91) 奶奶买了 48 个红毛丹，卡卡和两个弟弟各吃 8 个，
还剩下多少个红毛丹？
- 92) 水果店有 55 个芒果，上午卖了 17 个，下午卖出的芒果个数和上午同样多。
水果店还剩下多少个芒果？
- 93) 大毛、二毛和三毛共有 56 个弹珠。
大毛有 22 个弹珠，二毛的弹珠数量比大毛多 12 个。
那三毛有多少个弹珠？
- 94) 办公室的花瓶里有 42 朵玫瑰。
其中 15 朵是红色，12 朵是黄色，其余则是白色。
花瓶里有多少朵白色玫瑰花？
- 95) 妈妈需要 58 个水果。
她在水果档买了 19 个苹果和 14 个桃子。
妈妈还需要再买多少个水果？
- 96) B 班有 25 个男同学和 18 个女同学。
B 班有 17 个同学戴眼镜，那有多少个同学不戴眼镜？
- 97) 小丸子有 28 块饼干，她把饼干送给 2 个朋友，每人各 7 个。
她剩下多少块饼干？




- 98) 小杰有 35 枚邮票，他送给了小山 12 枚邮票。
小丽送给小杰 12 张邮票。那小杰最后有多少枚邮票？
- 99) 课室的书架上有 52 本书。其中 18 本是英文书，9 本是科学书，其余则是数学书。
书架上有多少本数学书？
- 100) 小杰、小山和小丽共有 68 枚邮票。小杰有 21 枚邮票，比小丽多 8 张邮票。
小山有多少枚邮票？
- 101) 课室的书架上有 52 本书。其中 18 本是英文书，比科学书少 7 本，其余则是数学书。
书架上有多少本数学书？
- 102) 老师买了一些丝带，红色丝带比黄色丝带少 15 条。
如果老师买了 40 条黄色丝带，那老师一共买了多少条丝带？
- 103) 小明家的鱼缸有 38 条鱼。其中 15 只是黑色，11 只是金色，其余则是红色。
鱼缸里有多少条红色的鱼？
- 104) 小明家的鱼缸共有 58 条三种颜色的鱼。
其中 16 条是黑色，比金色少 6 条，其余则是红色。
鱼缸里有多少条红色的鱼？
- 105) 妈妈共买了 42 个苹果、山竹和芒果，其中苹果比山竹少 8 个。
如果妈妈买了 21 个山竹，那妈妈买了多少个芒果？



- 106) 盒子 A 有 29 个红苹果和 15 个青苹果。
盒子 B 有 16 个红苹果和 17 个青苹果。
盒子 A 的苹果比盒子 B 中的苹果多几个?
- 107) 小宝有一些玩具车。妈妈给了他 21 辆玩具车，爸爸给了他 12 辆玩具车。
如果他现在有 55 辆玩具车，那他原来有几辆玩具车?
- 108) 小明拿到 RM23 的零用钱。他在星期一用了 RM7，在星期二用了 RM8。
他还剩下多少钱?
- 109) 小汤有 38 架玩具飞机，其中 14 架是黑色，7 架是黄色，其余则是蓝色的。
蓝色玩具飞机比黄色多几架?
- 110) 礼堂里有 44 个大人和 28 个小孩。
7 个大人和 9 个女孩离开了礼堂后，那礼堂还剩下多少人?
- 111) 三人共吃了一顿 RM125 的晚餐。
小明付了 RM45，小轩付了 RM39，其余的由小丽支付。
小丽付了多少钱?
- 112) 数学比赛中有 82 名学生。
一年级的参赛者有 18 人，二年级有 35 人，其余都是三年级的学生。
二年级和三年级的参赛者共多少人?
- 113) 小明有 RM35，他买了 RM6 的鸡饭，RM5 的故事书和一些铅笔。
如果他还剩下 RM10，那他买了多少钱的铅笔?



- 114) 小冬的零用钱是 RM7，小春的零用钱比小冬多 RM3。
小美的零用钱比小春少 RM5。他们三人一共有多少零用钱？
- 115) 小冬的零用钱是 RM7，小春的零用钱比小冬多 RM3。
小美的零用钱比小春少 RM5。
小美和小春两人共有多少零用钱？
- 116) 一本故事书的价格是 RM8，
一本杂志比故事书便宜 RM2，一本漫画书比杂志贵 RM5。
一本漫画书的价格是多少？
- 117) 一本故事书的价格是 RM9，
一本杂志比故事书便宜 RM3，一本漫画书比杂志贵 RM4。
买两本漫画书需要多少钱？
- 118) 一件衣服的价格是 RM33，比一件短裤贵 RM8。
请问一件衣服和一件短裤共需多少钱？
- 119) 一个榴莲的价钱是 RM35，一个芒果比一个榴莲便宜 RM8。
买两个芒果需要多收钱？
- 120) 桌上的花瓶中有 43 朵百合花和一些玫瑰花。
如果百合花比玫瑰花多 24 朵，那花瓶中共有多少朵花？
- 121) 商店卖了 34 瓶汽水和一些绿茶。
如果卖出的汽水比绿茶少 8 瓶，那商店共卖出多少瓶汽水和绿茶？



- 122) 盒子里有 28 张明信片，小花拿出 6 张并放入 18 张新的明信片。
请问现在盒子里有多少张明信片？
- 123) 篮子里有 36 个水果，小明从中拿出 8 个苹果并放入 12 个桃。
请问现在篮子里有多少个水果？
- 124) 花店有 25 朵黄花和 38 朵红花。
客人买走 12 朵花后，花店还剩下多少朵花？
- 125) 文具店售卖的盒装原子笔，每盒各有 2 支红笔和 3 支蓝笔。
小麦买了 4 盒原子笔。他共买了多少支原子笔？
- 126) 老师买了 6 盒蛋糕，每盒各有 5 个蛋糕。
老师把 22 个蛋糕送给学生后，还剩下多少个蛋糕？
- 127) 礼堂里有 4 排学生，每排都有 6 人。
另外 8 个学生进入礼堂后，礼堂共有多少个学生？
- 128) 爸爸买了 3 袋桃子，每袋有 5 个桃子。
妈妈买了 4 袋苹果，每袋有 3 个苹果。
请问爸爸和妈妈一共买了多少个水果？
- 129) 阿姨买了一些鸡蛋，她吃了其中的 5 个，
又把 4 个坏鸡蛋丢掉，最后把剩下的鸡蛋放入 3 个袋子里。
每个袋子有 5 个鸡蛋。阿姨原来买了多少个鸡蛋？



- 130) 一盒原子笔里有 5 支红笔和 3 支红笔。
小明买了 3 盒原子笔，共有多少支原子笔？
- 131) 小王买了 12 个苹果，他和 2 个朋友平均分配这些苹果。
每个人得到多少个苹果？
- 132) 小美有 6 个金币，小丽有 4 个金币。
她们决定平均分配全部金币，每人得到几个金币？
- 133) 一个盒子里有 12 个红苹果和 9 个青苹果。
小明把所有的苹果平均放入 3 个篮子里，每个篮子有多少个苹果？
- 134) 2 本书的价格是 RM10，3 支笔的价格为 RM6。
小轩买了 1 本书和 1 支笔，共多少钱？
- 135) 课室里有 12 个同学，其中 3 人没有带铅笔，其余的学生各带了 2 支铅笔。
他们共有多少支铅笔？
- 136) 小丽买了 4 盒苹果，每盒有 4 个苹果。
她吃了两盒苹果，还剩下多少个苹果？
- 137) 商店有 4 箱同样的汽水，每箱各有 10 瓶。
卖出 28 瓶汽水后，商店还剩下多少瓶汽水？
- 138) 蛋糕店有 4 盘蛋糕，每盘各有 8 个蛋糕。
上午卖出 9 个，下午卖出 6 个，还剩下多少个蛋糕？



- 139) 小丸子有 RM15，她买了一块蛋糕后，还剩 RM7。
两块同样的蛋糕需要多少钱？
- 140) 妈妈带了 RM30 去买苹果，买了 3 盒后，还剩下 RM6。
请问 1 盒苹果需要多少钱？
- 141) 阿姨买了 6 盒桃子，每盒有 8 个桃子。
她把 29 个桃子送给邻居后，还剩下多少个桃子？
- 142) 一束玫瑰花的价格是 RM12。
花店卖出 2 束玫瑰花和一束百合花，花店老板得到 RM43。
请问一束百合花需要多少钱？
- 143) 2 本故事书和 1 本字典的价格是 RM45。
1 本故事书的价格是 RM6，一本字典的价格是多少钱？
- 144) 5 个小孩子去学校，每人各带了 4 瓶牛奶。
每个孩子各吃了 3 瓶子牛奶后，他们还剩下多少瓶牛奶？
- 145) 妈妈买了 10 盒苹果，每盒各有 5 个。
她把 6 盒苹果送给邻居后，还剩下多少个苹果？
- 146) 商店共有 5 箱汽水，每箱有 6 瓶汽水。
其中 16 瓶是百事可乐，余下的都是可口可乐。
请问商店共有多少瓶可口可乐？



- 147) 一本故事书的价格是 RM8，一本练习册比故事书便宜 RM3。
小明买了 3 本练习册，需要多少钱？
- 148) 一本故事书的价格是 RM8，一本练习册比故事书便宜 RM3。
小明买了一本练习册和一本故事书，共需要多少钱？
- 149) 小西有 RM20，他买了一个 RM11 的铅笔盒，
收银员给了他一张 RM5 和一些 RM1 的纸钞。
请问收银员给了小西多少张 RM1 的纸钞？
- 150) 小春把 15 个面包平均放入 3 个盒子里，
每个盒子里都有 2 个红豆面包和一些芝麻面包。
请问每个盒子里有多少个芝麻面包？
- 151) 哥哥有 30 个苹果，弟弟有 10 个苹果。
哥哥给了弟弟多少个苹果后，
他们的苹果数量就相等？
- 152) 姐姐有 30 朵纸花，妹妹有 20 朵纸花。
姐姐给了妹妹多少朵纸花后，
她们的纸花数量就相等？
- 153) 小轩的钱包里有 90 仙，
其中 3 枚是 10 仙硬币，其余则是 20 仙硬币。
小轩有多少枚 20 仙的硬币？
- 154) 王老板把 25 个苹果平均放入 5 个盒子里。
请问两盒苹果有多少个？



- 155) 王老板把 30 个苹果平均放入 5 个盒子里。
请问 3 盒苹果有多少个?
- 156) 1 盒桃子有 6 个, 1 盒桃子的价格是 RM5。
小丽有 RM20, 她可以买到多少个桃子?
- 157) 水果店有一些芒果, 买入 20 个芒果后, 共有 85 个芒果。
水果店原来有多少个芒果?
- 158) 小马买了一件 RM50 的衣服后, 把剩余的存起来。
如果他储蓄了 RM15, 那他一开始有多少钱?
- 159) 小马买了一件 RM50 的衣服后, 把剩余的存起来。
如果他储蓄了 RM15, 那他花费的钱比储蓄多多少?
- 160) 一个书包比一个铅笔盒贵 RM15。
如果一个书包的价格是 RM35, 那两个铅笔盒多少钱?
- 161) 一个书包比一个铅笔盒贵 RM15。
如果一个书包的价格是 RM35,
那一个书包和一个铅笔盒共多少钱?
- 162) 飞牛牧场养了 35 只牛和 18 只羊。
牧场主人买入 13 只羊后, 羊和牛相差多少只?



163) 飞牛牧场养了 35 只牛和 18 只羊。
牧场主人买入 13 只羊后，牧场共有多少只羊和牛？

164) 农场养了 42 只鸡和 27 只鸭。
农场主人买入 15 只鸭后，鸡和鸭相差多少只？

165) 农场养了 41 只鸡和 26 只鸭。
农场主人买入 18 只鸭后，鸡和鸭共有多少只？



答案:

- 1) 42
- 2) 35
- 3) 21
- 4) 57
- 5) 56
- 6) 59
- 7) 35
- 8) 50
- 9) 37
- 10) 40
- 11) 37
- 12) 89
- 13) 44
- 14) 42
- 15) 49
- 16) 71
- 17) 36
- 18) 46
- 19) 30
- 20) 73
- 21) 45
- 22) 47
- 23) 29
- 24) 66
- 25) 47
- 26) 76
- 27) 90
- 28) 32
- 29) 46
- 30) 12
- 31) 10
- 32) 23
- 33) 12
- 34) 7
- 35) 33
- 36) 28
- 37) 31
- 38) 51
- 39) 18
- 40) 24
- 41) 19
- 42) 30
- 43) 37

- 44) 26
- 45) 9
- 46) 8
- 47) 24
- 48) 19
- 49) 10
- 50) 4
- 51) 10
- 52) 64
- 53) 98
- 54) 12
- 55) 31
- 56) 32
- 57) 21
- 58) 28
- 59) 20
- 60) 32
- 61) 6
- 62) 8
- 63) 3
- 64) 5
- 65) 3
- 66) 6
- 67) 14
- 68) 18
- 69) 27
- 70) 26
- 71) 9
- 72) 7
- 73) 17
- 74) 25
- 75) 38
- 76) 37
- 77) 46
- 78) 14
- 79) 40
- 80) 25
- 81) 38
- 82) 12
- 83) 69
- 84) 10
- 85) 31
- 86) 6

- 87) 94
- 88) 52
- 89) 17
- 90) 28
- 91) 32
- 92) 21
- 93) 20
- 94) 15
- 95) 25
- 96) 26
- 97) 14
- 98) 35
- 99) 25
- 100) 34
- 101) 9
- 102) 65
- 103) 12
- 104) 20
- 105) 8
- 106) 11
- 107) 22
- 108) 8
- 109) 10
- 110) 56
- 111) 41
- 112) 6
- 113) 14
- 114) 22
- 115) 15
- 116) 11
- 117) 20
- 118) 58
- 119) 54
- 120) 62
- 121) 76
- 122) 40
- 123) 40
- 124) 51
- 125) 20
- 126) 8
- 127) 32
- 128) 27
- 129) 24



130)	24
131)	4
132)	5
133)	7
134)	7
135)	18
136)	8
137)	12
138)	17
139)	16
140)	8
141)	19

142)	19
143)	33
144)	5
145)	20
146)	14
147)	15
148)	13
149)	14
150)	3
151)	10
152)	5
153)	3

154)	10
155)	18
156)	24
157)	65
158)	65
159)	35
160)	40
161)	55
162)	4
163)	66
164)	10
165)	85



wa.link/2u1776

如果有发现任何错误，请联络郑老师做出更正。
郑老师 012-6796098